



Сурагчийн нэр: Эхэлсэн: он сар өдөр



Тэрбумын анги		Саяын анги		Мянгын анги		Нэгжийн анги													
Зуун тэрбум	Тэрбум	Арван тэрбум	Зуун саят	Арван саят	Саят	Зуун мянгат	Арван мянгат	Мянгат	Зуут	Аравт	Нэгж								
		5	6	4	1	2	4	8	0	5									
Орны утга →		500 000 000		60 000 000		4 000 000		100 000		20 000		4 000		800		0		5	

Тооны стандарт хэлбэр: 564 124 805

Унших: Таван зуун жаран дөрвөн сая, нэг зуун хорин дөрвөн мянга, найман зуун тав

1 Тоон сүлжээнд бичигдсэн тоонуудыг үгээр илэрхийлж бичээрэй.

					Д.						
					6						
а.	3	5	0	7	4	2					
					б.	6	4	3	7	9	
					в.	1	9	5	7	4	8
г.	8	6	2	0	7	7					

а.
.....

б.
.....

в.
.....

Г.
.....

Д.
.....

2 Тохирох стандарт бичлэгт харгалзуулаарай.

а. Гурван зуун жаран мянга долоон зуун арван тав

306 715

б. Гурван зуун зургаан мянга долоон зуун арван тав

36 715

в. Гучин зургаан мянга долоон зуун арван тав

30 715

г. Гучин мянга долоон зуун арван тав

360 715

3 Жишээрэй.

а. 17866 ... 170886
35605 ... 350605
850900 ... 85090

б. 365453 ... 365435
245039 ... 240639
762001 ... 762011

в. 27 зуут ... 27000
36 аравт ... 30 зуут
15 мянга ... 150 зуут

Дууссан:сарөдөр



Даалгавар	1	2	3
Өөрийн үнэлгээ	😊	😊	😊

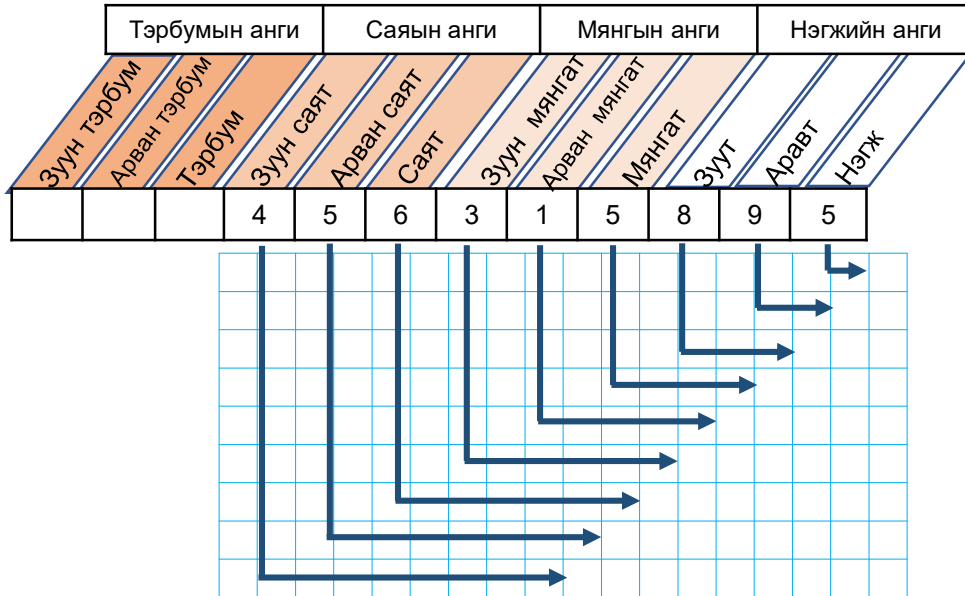


Сурагчийн нэр: Эхэлсэн: он сар өдөр

1. а. Орон ангийн хүснэгтэд байгаа тоог уншиж, үгээр бичээрэй.

.....

б. Дараах тооны цифрүүдийн орны утгыг бичээрэй.



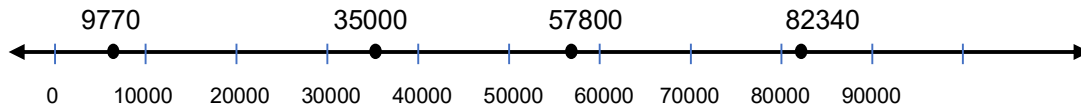
2. Тоонуудыг стандарт хэлбэрээр бичээд, жишээрэй.

Нэг зуун долоон сая, дөрвөн зуун гучин гурван мянга, таван зуун жаран дөрөв

Нэг зуун долоон сая, дөрвөн зуун гучин нэгэн мянга, зургаан зуун жаран дөрөв

_____ _____

3. Тоон шулуун дээр тэмдэглэсэн тоонуудыг арван мянгатаар тоймлоорой.



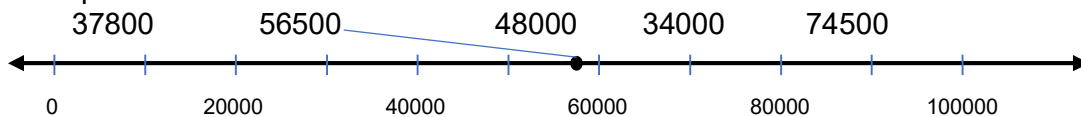
9770 ≈ _____

35000 ≈ _____

57800 ≈ _____

82340 ≈ _____

4. а. Өгсөн тоог арван мянгатаар тоймлож, тоон шулуун дээр цэгээр тэмдэглээд, холбоорой.



б. Тоон шулуун дээр тэмдэглэсэн тоонуудыг буурах эрэмбээр бичээрэй.

Дууссан:сарөдөр



Даалгавар	1	2	3	4
Өөрийн үнэлгээ				



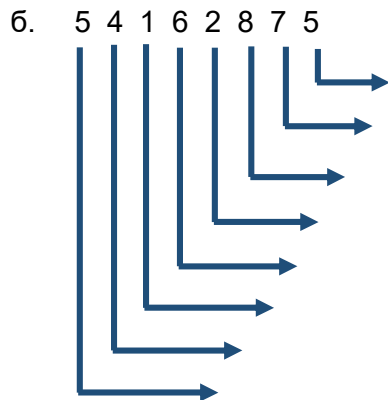
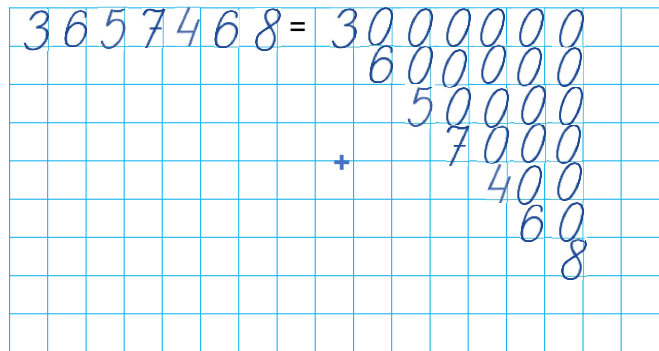
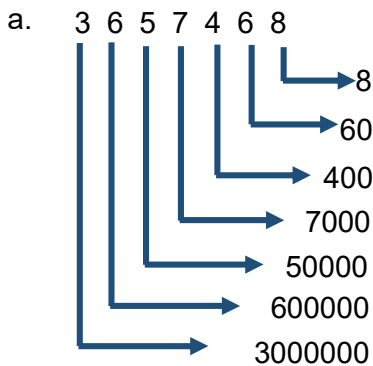
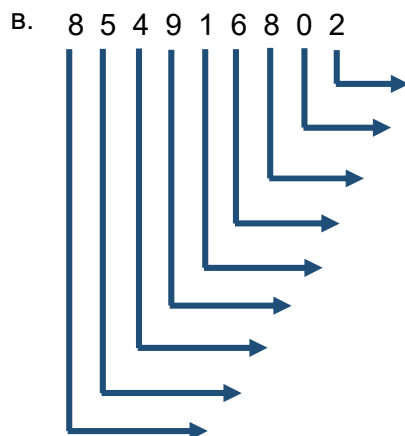
Сурагчийн нэр:

Эхэлсэн: он сар өдөр

1 Тооны орны утгын хүснэгтэд будсан тоонуудын нийлбэрийг олоорой.

1 000 000	2 000 000	3 000 000	4 000 000	5 000 000	6 000 000	7 000 000	8 000 000	9 000 000												
100 000	200 000	300 000	400 000	500 000	600 000	700 000	800 000	900 000												
10 000	20 000	30 000	40 000	50 000	60 000	70 000	80 000	90 000												
1 000	2 000	3 000	4 000	5 000	6 000	7 000	8 000	9 000												
100	200	300	400	500	600	700	800	900												
10	20	30	40	50	60	70	80	90												
1	2	3	4	5	6	7	8	9												

2 Тооны цифрүүдийн орны утгыг илэрхийлж, нэмэгдэхүүний нийлбэр хэлбэрээр задлан бичээрэй.

Дууссан:сарөдөр

Даалгавар 1 2
Өөрийн үнэлгээ 😊 😞